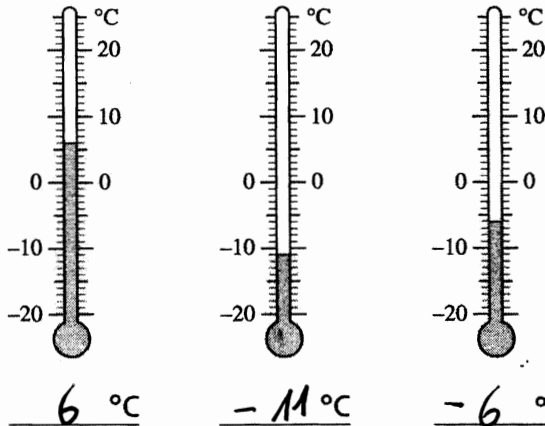
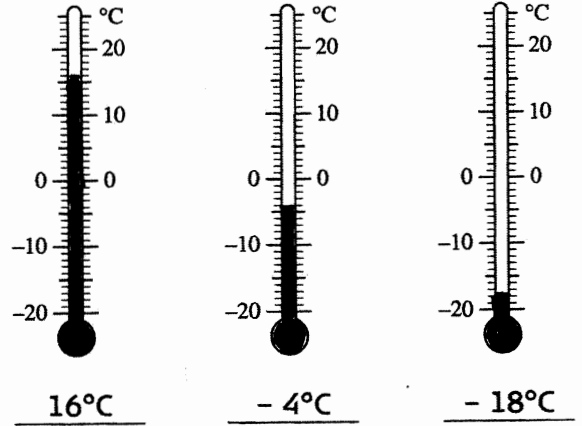


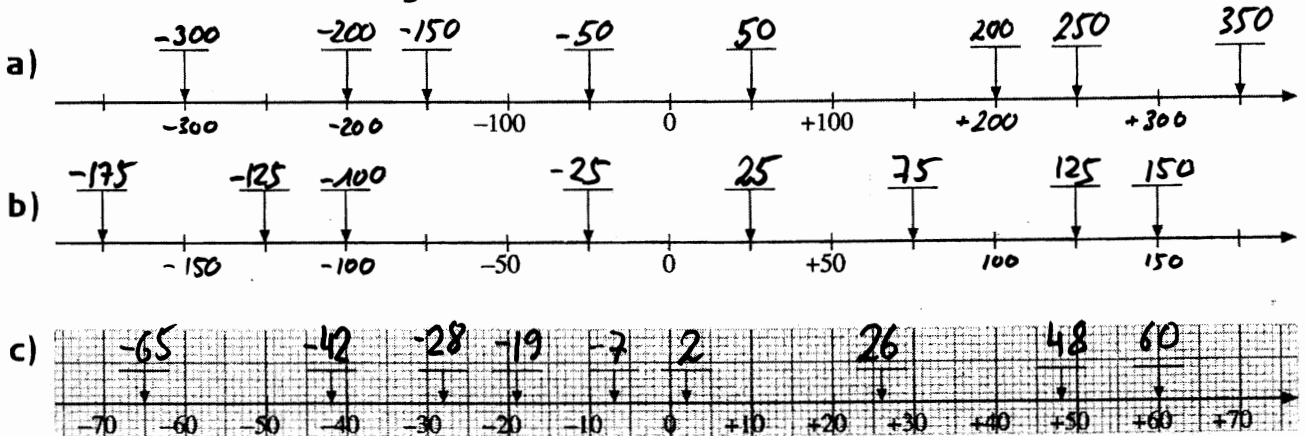
1. Lies die Temperatur ab.



2. Zeichne die Temperaturen farbig ein.

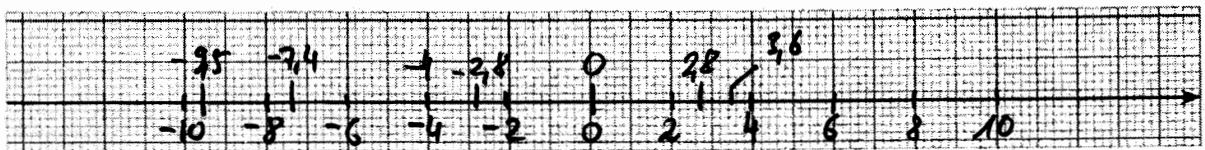


2. Auf welche rationale Zahl zeigt der Pfeil? Schreibe die Zahl auf den Balken.



3. Wähle auf der Zahlengerade geeignete Einheiten und markiere die Zahlen.

- 2,8; + 2,8; - 4; - 9,5; 3,6; 0; - 7,4



4.

Zahl	+ 7	- 3	$1\frac{1}{2}$	1	0	-10,2	4,5	+ 1	4,7	0
Gegenzahl	- 7	3	$-1\frac{1}{2}$	- 1	0	+ 10,2	- 4,5	- 1	- 4,7	0
Betrag	7	3	$1\frac{1}{2}$	1	0	10,2	4,5	1	4,7	0

5. Markiere auf der Zahlengeraden Zahlen, die folgende Beträge 4; 7; $\frac{10}{2}$; 8; 2 haben.

